

**Q1.** (EFOMM – Modificada) Uma escada foi colocada em cima de um caminhão formando um ângulo de  $30^\circ$  com o topo de um prédio de 7 m de altura. Sabendo-se que a altura do caminhão é 1,0 m, a medida da escada em metros é:

- a)  $\frac{14\sqrt{3}}{3}$       b)  $14\sqrt{3}$       c)  $2\sqrt{3}$       d)  $\frac{4\sqrt{3}}{3}$       e)  $4\sqrt{3}$

**Q2.** (EFOMM) Seja  $A$  a matriz inversa da matriz  $B = \begin{bmatrix} \frac{1}{3} & 0 \\ \frac{1}{7} & 1 \end{bmatrix}$ . Determine a soma dos elementos da diagonal principal da matriz  $A$ .

- a)  $\frac{9}{4}$       b) 4      c)  $\frac{4}{9}$       d)  $\frac{5}{9}$       e)  $-\frac{1}{9}$

**Q3.** (EFOMM) Que valores de  $k$  tornam positivo o determinante da matriz  $\begin{bmatrix} k & 2 & -2 \\ 0 & 1 & k-1 \\ -1 & 3 & 0 \end{bmatrix}$ ?

- a)  $k \geq 1$   
 b)  $0 < k < \frac{1}{3}$   
 c)  $0 \leq k \leq 1$   
 d)  $k \leq -1$   
 e)  $k > -1$

**Q4.** (EFOMM) A soma dos termos da progressão  $2^{-1}, 2^{-2}, 2^{-3}, \dots, 2^{-10}$  é

- a)  $2^{-(1+2+3+\dots+10)}$       b)  $2^{-1.024}$       c)  $1.024^{-1}$       d)  $\frac{513}{1.024}$       e)  $\frac{1.023}{1.024}$

**Q5.** (EFOMM) Dadas as matrizes  $A = \begin{bmatrix} 1 & 0 \\ -1 & -1 \\ 1 & 1 \end{bmatrix}$  e

$B = \begin{bmatrix} 0 & 1 & 2 \\ 3 & 4 & 5 \end{bmatrix}$  e considerando  $n = \det(AB)$ , determine  $7^n$ .

- a) 0      b) 1      c) 2      d) 3      e) 4

**Q6.** (EFOMM) Sejam os conjuntos  $U = \{1, 2, 3, 4\}$  e  $A = \{1, 2\}$ . O conjunto  $B$  tal que  $B \cap A = \{1\}$  e  $B \cup A = U$  é

- a)  $\emptyset$       b)  $\{1\}$       c)  $\{1, 2\}$       d)  $\{1, 3, 4\}$       e)  $U$

**Q7.** (EFOMM) Dados  $A = \{2, 3, 4\}$  e  $B = \{1, 6, 8, 12\}$ , a relação  $R_1 = \{(x, y) \in A \times B \mid y = x + 4\}$  de  $A$  em  $B$  é dada por:

- a)  $\{(3, 6), (4, 8)\}$   
 b)  $\{(2, 6), (4, 8)\}$   
 c)  $\{(6, 2), (8, 4)\}$   
 d)  $\{(2, 6), (3, 12), (4, 8)\}$   
 e)  $\{(2, 1), (3, 6), (4, 8)\}$

**Q8.** (EFOMM) Os 3 primeiros termos de uma progressão geométrica são  $a_1 = \sqrt{2}$ ,  $a_2 = \sqrt[3]{2}$  e  $a_3 = \sqrt[6]{2}$ . O quarto termo é

- a)  $\frac{1}{\sqrt{2}}$       b) 1      c)  $\sqrt[8]{2}$       d)  $\sqrt[9]{2}$       e)  $\frac{1}{2}$

**Q9.** (EFOMM) Se  $M = \begin{bmatrix} 1 & 2 \\ 0 & 1 \end{bmatrix}$  e  $N = \begin{bmatrix} 2 & 0 \\ 1 & 1 \end{bmatrix}$  então  $MN - NM$  é:

- a)  $\begin{bmatrix} 2 & -2 \\ 0 & -2 \end{bmatrix}$   
 b)  $\begin{bmatrix} 0 & 0 \\ 0 & 0 \end{bmatrix}$

- c)  $\begin{bmatrix} 1 & 0 \\ 0 & 1 \end{bmatrix}$   
 d)  $\begin{bmatrix} 4 & 2 \\ 1 & 1 \end{bmatrix}$   
 e)  $\begin{bmatrix} -1 & 2 \\ -1 & 0 \end{bmatrix}$

**Q10.** (EFOMM) Se o 5º número de uma P.A. de 9 termos é 16, então a soma de seus termos será:

- a) 76      b) 96      c) 144      d) 176      e) 196

**Q11.** (EFOMM) Se as matrizes  $\begin{pmatrix} \sin 2\alpha & (\sin \alpha + \cos \alpha)^2 \\ \cos 2\alpha & |\sin^2 \alpha + \cos^2 \alpha| \end{pmatrix}$  e  $\begin{pmatrix} \frac{1}{2} & b \\ a & c \end{pmatrix}$  são iguais, então os números  $a$ ,  $b$  e  $c$  valem, respectivamente:

- a)  $\frac{\sqrt{3}}{2}, \frac{1}{2}$  e 1  
 b)  $\frac{1}{2}, \frac{\sqrt{3}}{2}$  e 0  
 c) 1,  $\frac{1}{2}$  e  $\frac{\sqrt{3}}{2}$   
 d)  $\frac{\sqrt{3}}{2}, \frac{3}{2}$  e 1  
 e)  $\frac{3}{2}, \frac{1}{2}$  e  $\frac{\sqrt{3}}{2}$

**Q12.** (EFOMM) Numa companhia de 496 alunos, 210 fazem natação, 260 musculação e 94 estão impossibilitados de fazer esportes. Neste caso, o número de alunos que fazem só natação é

- a) 116      b) 142      c) 166      d) 176      e) 194

**Q13.** (EFOMM) Ao ocorrer uma falta de luz, rapidamente, são utilizados geradores (GSA) a diesel. Estes dispõem de duas polias, como mostra a figura 1.

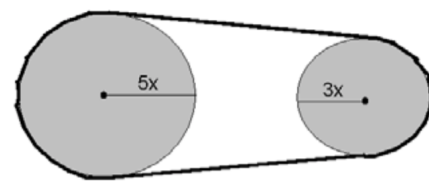


Figura 1


Para que a maior polia possa dar uma volta completa, a menor deverá girar

- a)  $180^\circ$       b)  $360^\circ$       c)  $600^\circ$       d)  $720^\circ$       e)  $780^\circ$

**Q14.** (EFOMM) Uma sala de aula do CIABA tem parede conjugada com o ginásio de esportes, ele é retangular e os seus outros lados serão reformados por causa de uma infiltração. Para que essa reforma se realize, é necessário isolar os 3 lados com 400 m de tela de modo a produzir uma área máxima. Então, o quociente de um lado pelo outro é

- a) 0,5      b) 1      c) 1,5      d) 2,5      e) 3

**Q15.** (EFOMM) Nas embarcações é comum utilizar os cabeços para amarrar as espias. Ao olhar de cima, visualizam-se duas circunferências (figura 2).



Visão Superior de dois cabeços

Figura 2

Ao dispor meia circunferência no quadrado  $ABCD$  de lado  $a$ , onde  $\overline{DB}$  é a espia, obtêm-se o ponto de tangência  $F$  e como centro da circunferência o ponto  $E$  (figura 3).

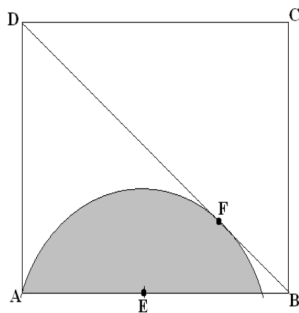


Figura 3

O valor do raio do cabeço, em função de  $a$ , é

- a)  $a - 1$     b)  $a$     c)  $a(\sqrt{2} - 1)$     d)  $a\sqrt{2}$     e)  $2a$

**Q16.** (EFOMM) Seja a P.A.  $(\sin \frac{\pi}{12}, a, b, c, \sin 75^\circ)$ . O valor de  $(b^2 - ac)^2$  é:

- a)  $5^{-6}$     b)  $10^3$     c)  $\frac{2\sqrt{6}-\sqrt{3}}{4}$     d)  $2^{-10}$     e)  $\frac{2^{-5}}{3^{-2}}$

**Q17.** (EFOMM) Seja  $A = \begin{bmatrix} 2 & -1 & 0 \\ 1 & 0 & -3 \end{bmatrix}$  e  $B =$

$$\begin{bmatrix} 1 & -4 & 0 & 1 \\ 2 & -1 & 3 & -1 \\ 4 & 0 & -2 & 0 \end{bmatrix}$$
 e  $C = A \cdot B$ , o resultado de  $c_{23} + c_{14} + c_{21}$  é:

- a) um número natural menor que 2.  
 b) um número cujo sua raiz quadrada resulta em um número complexo conhecido como imaginário.  
 c) o mesmo resultado que a soma dos inversos das raízes da equação  $x^2 - 2x - 1 = 0$ .  
 d) o mesmo resultado que o conjunto verdade da equação exponencial  $2^{x+2} + 2^{x-1} = 18$   
 e) o mesmo resultado do produto dos 6 primeiros termos da P.G.  $(2^{-1}, 2^{-2}, 2^{-3}, \dots)$

**Q18.** (EFOMM) Considere a matriz  $A = \begin{bmatrix} 0 & 2 \\ \frac{1}{2} & 0 \end{bmatrix}$ . A

matriz em que  $\sum_{j=1}^{10} A^j$  é:

- a)  $I_{2 \times 2}$     b)  $A$     c)  $I_{2 \times 2} + A$     d)  $5 \cdot (I_{2 \times 2} + A)$     e)  $7A$

**Q19.** (EFOMM) Numa Instituição de Ensino, ocorreu uma inspeção de limpeza nos setores de esportes e no alojamento dos alunos. Sabendo que o setor esportivo dispõe de um maior

número de funcionários e que cinco destes também desempenham funções no alojamento, pode-se afirmar que, com um quantitativo de 10 funcionários, a soma dos possíveis valores de pessoas no setor esportivo é

- a) 10.    b) 11.    c) 12.    d) 13.    e) 14.

**Q20.** (EFOMM) Duas pessoas estão na beira da praia e conseguem ver uma lancha  $B$  na água. Adotando a distância entre as pessoas como  $\overline{P_1P_2}$  sendo 63 metros, o ângulo  $B\widehat{P_1}P_2 = \alpha$ ,  $B\widehat{P_2}P_1 = \beta$ ,  $\tan \alpha = 2$  e  $\tan \beta = 4$ . A distância da lancha até a praia vale

- a) 83    b) 84    c) 85    d) 86    e) 87

**Q21.** (EFOMM) Todos os anos uma fábrica aumenta a produção em uma quantidade constante. No 5º ano de funcionamento, ela produziu 1460 peças, e no 8º ano, 1940. Quantas peças, então, ela produziu no 10 ano de funcionamento?

- a) 475    b) 520    c) 598    d) 621    e) 820

**Q22.** (EFOMM)  $A$ ,  $B$  e  $C$  são pontos consecutivos no sentido anti-horário de uma circunferência de raio  $r$ . O menor arco  $AB$  tem comprimento igual a  $r$ . Tomando-se como unidade  $u$  a medida do ângulo agudo  $A\widehat{C}B$ , qual é o valor do seno de  $\frac{\pi}{6}u$ ?

- a)  $\frac{\sqrt{3}}{2}$     b)  $\frac{\sqrt{2}}{2}$     c)  $\frac{1}{2}$     d)  $\frac{\sqrt{2+\sqrt{3}}}{2}$     e)  $\frac{\sqrt{2-\sqrt{3}}}{2}$

**Q23.** (EFOMM) Dado o sistema de equações lineares

$$S : \begin{cases} a_1x + b_1y + c_1z = d_1 \\ a_2x + b_2y + c_2z = d_2 \\ a_3x + b_3y + c_3z = d_3 \end{cases} . \text{ Sabendo-se que os deter-}$$

minantes:  $\begin{vmatrix} a_1 & b_1 & c_1 \\ a_2 & b_2 & c_2 \\ a_3 & b_3 & c_3 \end{vmatrix}$ ,  $\begin{vmatrix} d_1 & b_1 & c_1 \\ d_2 & b_2 & c_2 \\ d_3 & b_3 & c_3 \end{vmatrix}$ ,  $\begin{vmatrix} a_1 & d_1 & c_1 \\ a_2 & d_2 & c_2 \\ a_3 & d_3 & c_3 \end{vmatrix}$  e

$\begin{vmatrix} a_1 & b_1 & d_1 \\ a_2 & b_2 & d_2 \\ a_3 & b_3 & d_3 \end{vmatrix}$  são todos iguais a zero, apenas pode-se concluir que  $S$

- a) é determinado.  
 b) não é determinado.  
 c) admite a solução  $(0, 0, 0)$ .  
 d) não é impossível.  
 e) não é indeterminado.

**Q24.** (EFOMM) A progressão geométrica  $(x - 3, x + 1, \dots)$  de termos reais não nulos admite um limite para a soma dos seus infinitos termos se, e somente se,

- a)  $x > 1$     b)  $x < 1$     c)  $x > 3$     d)  $x < 3$     e)  $1 < x < 3$

GABARITO

- |              |               |               |               |
|--------------|---------------|---------------|---------------|
| <b>Q1.</b> E | <b>Q7.</b> A  | <b>Q13.</b> C | <b>Q19.</b> C |
| <b>Q2.</b> B | <b>Q8.</b> A  | <b>Q14.</b> A | <b>Q20.</b> B |
| <b>Q3.</b> B | <b>Q9.</b> A  | <b>Q15.</b> C | <b>Q21.</b> E |
| <b>Q4.</b> E | <b>Q10.</b> C | <b>Q16.</b> D | <b>Q22.</b> D |
| <b>Q5.</b> B | <b>Q11.</b> D | <b>Q17.</b> C | <b>Q23.</b> B |
| <b>Q6.</b> D | <b>Q12.</b> B | <b>Q18.</b> D | <b>Q24.</b> B |